

Date : \_\_\_\_\_

## Calculs dictés

1

a

b

c

d

e

f

## Nombres jusqu'à 99

2

Relie les étiquettes qui correspondent au même nombre.

$$10 + 10 + 10 + 10 + 10 + 10 + 10 + 10 + 10 + 7$$

77

67

soixante-sept

$$70 + 7$$

soixante-dix-sept

97

$$10 + 10 + 10 + 10 + 10 + 10 + 10 + 7$$

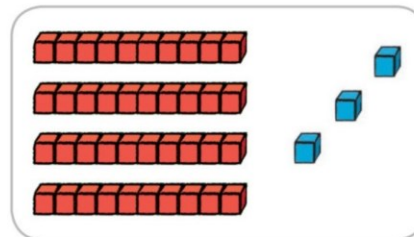
$$80 + 7$$

## Calcul réfléchi : soustraction

3

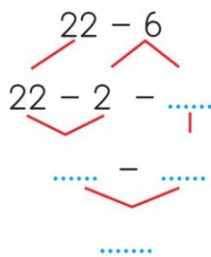
Utilise les cubes dessinés pour compléter ce calcul.

$$43 - 7 = \dots\dots\dots$$

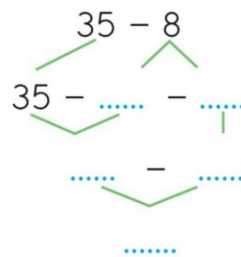


4

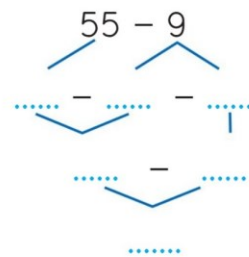
Utilise les arbres de calcul pour trouver les résultats.



$$22 - 6 = \dots\dots\dots$$



$$35 - 8 = \dots\dots\dots$$



$$55 - 9 = \dots\dots\dots$$

5

Calcule avec la méthode de ton choix.

$$24 - 5 = \dots\dots\dots$$

$$31 - 3 = \dots\dots\dots$$

$$44 - 8 = \dots\dots\dots$$